

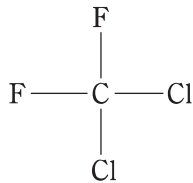
# 専門試験（衛生B）

【例題1】表は、モントリオール議定書に基づく先進国に対するオゾン層破壊物質の削減スケジュールを示したものである。化合物群Cに含まれる化合物として、正しいのはどれか。

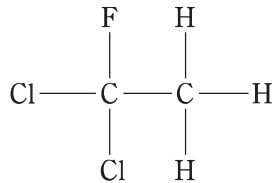
表. モントリオール議定書に基づく先進国に対するオゾン層破壊物質の削減スケジュール（一部）

| 物質名             |     | 先進国に対する規制スケジュール |                       |
|-----------------|-----|-----------------|-----------------------|
| A               |     | 1996年以降         | 全 廃                   |
| B               |     | 1994年以降         | 全 廃                   |
| その他のクロロフルオロカーボン |     | 1996年以降         | 全 廃                   |
| 1,1,1-トリクロロエタン  |     | 1996年以降         | 全 廃                   |
| C               | 消費量 | 2020年以降         | 全 廃（既存機器への補充に関する例外あり） |
|                 | 生産量 | 2020年以降         | 全 廃（既存機器への補充に関する例外あり） |

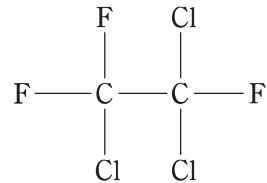
1.



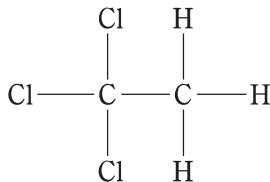
2.



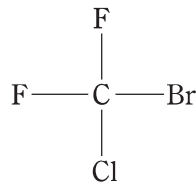
3.



4.



5.



【正答 2】

【例題2】片頭痛とその治療に関する次の記述のうち、正しいのはどれか。

1. 片頭痛の患者は、女性よりも男性の方が多い。
2. 遺伝的要因は、片頭痛の発症に無関係である。
3. 片頭痛発作の主な誘因は、ヒスタミンである。
4. 非ステロイド性抗炎症薬は、片頭痛の治療に用いられない。
5. 片頭痛発作の急性期の治療には、トリプタン製剤が有効である。

【正答 5】